



GOVT. OF NCT OF DELHI
Delhi Subordinate Services Selection Board
FC-18, Institutional Area, Karkardooma, Delhi - 110092.
www.dsssb.delhigovt.nic.in

exampundit
Your Success Partner
www.exampundit.in pdf.exampundit.in

Participant ID	15619052
Participant Name	www.exampundit.in
Test Center Name	Inspiration Online Test Centre
Test Date	17/08/2019
Test Time	4:30 PM - 6:30 PM
Subject	LOWER DIVISION CLERK

Section : Mental Ability1

Q.1 ऋषभ और केशव क्रिकेट और बास्केटबॉल में अच्छे हैं। सोहन और ऋषभ क्रिकेट और फुटबॉल में अच्छे हैं। गौतम और केशव हॉकी और बास्केटबॉल में अच्छे हैं। सचिन, गौतम और मोहन बेसबॉल और फुटबॉल में अच्छे हैं। निम्नलिखित में से कौन सा कथन सही नहीं है?

- Ans
- 1. गौतम फुटबॉल, हॉकी, बास्केटबॉल और बेसबॉल में अच्छा है।
 - 2. ऋषभ क्रिकेट, फुटबॉल और बास्केटबॉल में अच्छा है।
 - 3. केशव क्रिकेट, हॉकी और बास्केटबॉल में अच्छा है।
 - 4. सचिन फुटबॉल, हॉकी और बेसबॉल में अच्छा है।

Question ID : 5459275871

Q.2 नीचे दिए गए प्रश्न में कुछ कथन और उनके बाद उन कथनों पर आधारित कुछ निष्कर्ष दिए गए हैं। दिए गए कथनों को सही माने, चाहे उनमें सामान्य ज्ञात तथ्यों से भिन्नता हो। सभी निष्कर्ष पढ़ें और फिर निर्धारित करें कि दिए गए कौन से निष्कर्ष, दिए गए कथनों के आधार पर युक्तिसंगत हैं।

कथन:

- I. कुछ मेज पेंसिल हैं।
- II. सभी पेंसिल कलम हैं।
- III. सभी मेज कप हैं।

निष्कर्ष:

- I. कुछ कप पेंसिल हैं।
- II. कुछ पेंसिल मेज हैं।
- III. सभी मेज कलम हैं।

- Ans
- 1. केवल निष्कर्ष II अनुसरण करता है।
 - 2. दोनों निष्कर्ष I तथा II अनुसरण करते हैं।
 - 3. दोनों निष्कर्ष I तथा III अनुसरण करते हैं।
 - 4. केवल निष्कर्ष III अनुसरण करता है।

Question ID : 5459275877

Q.3 निम्नलिखित प्रश्न में दिए गए विकल्पों में से विषम शब्द युग्म को चुनिए।

- Ans
- 1. अखाड़ा : कुश्ती
 - 2. टेनिस : कोर्ट
 - 3. स्केटिंग : रिंग

4. क्रिकेट : पिच

Question ID : 5459275864

Q.4 निम्नलिखित प्रश्न में दिए गए विकल्पों में से संबंधित अक्षरों को चुनिए।

ITSK : MVUN :: APOC : ?

- Ans
- 1. ERQF
 - 2. DQRH
 - 3. EQRG
 - 4. DRQH

Question ID : 5459275867

Q.5 निम्नलिखित शब्दों को शब्दकोश में आने वाले क्रम के अनुसार लिखें।

1. Definetely
2. Defined
3. Defeat
4. Decomposed
5. Defame

- Ans
- 1. 45312
 - 2. 45321
 - 3. 42135
 - 4. 42513

Question ID : 5459275859

Q.6 छह व्यक्ति O1, O2, O3, O4, O5 और O6 केंद्र की ओर मुख करके एक वृत्तकार मेज़ के ईद - गिंद बैठे हैं। O6 और O4 के बीच में केवल O5 बैठा है। O6 और O1 के बीच में केवल O2 बैठा है। O3, O5 के बायीं ओर दूसरा है। निम्नलिखित में से कौन सा/से कथन सही है/हैं?

- I. O1, O3 के तुरंत दायीं ओर नहीं बैठा है।
- II. O1 और O6 के बीच केवल O2 नहीं बैठा है।
- III. O5, O2 के बायीं ओर दूसरा नहीं है।
- IV. O4, O5 के तुरंत बायीं ओर बैठा है।

- Ans
- 1. केवल II और IV
 - 2. केवल IV
 - 3. केवल III और IV
 - 4. केवल I और IV

Question ID : 5459275875

Q.7 एक परिवार के छः सदस्य फोटो खिचवाने के लिए एक पंक्ति में बैठे हैं। केशव और सोनम के बीच में केवल अर्जुन बैठा है। मोहित और नैना सिरों पर बैठे हैं। नैना और सोनम के बीच में कोई नहीं बैठा है। सुनील कहाँ बैठा है?

- Ans
- 1. केशव और मोहित के बीच
 - 2. नैना और अर्जुन के बीच
 - 3. मोहित और अर्जुन के बीच
 - 4. सोनम और केशव के बीच

Question ID : 5459275872

Q.8 निम्नलिखित प्रश्न में दी गई श्रृंखला में से लुप्त अंक ज्ञात कीजिए।

0, 6, 24, 60, 120, ?

- Ans
- 1. 180
 - 2. 240
 - 3. 210
 - 4. 200

Question ID : 5459275878

Q.9 निम्नलिखित प्रश्न में दिए गए विकल्पों में से विषम शब्द को चुनिए।

- Ans
- 1. बल
 - 2. न्यूटन
 - 3. पास्कल
 - 4. वॉट

Question ID : 5459275862

Q.10 एक विशिष्ट कोड भाषा में, 'ARMY' को '171' लिखा जाता है, 'EYES' को '162' लिखा जाता है। इस कोड भाषा में 'ALSO' का कोड क्या है?

- Ans
- 1. 139
 - 2. 141
 - 3. 151
 - 4. 106

Question ID : 5459275869

Q.11 एक विशिष्ट कोड भाषा में, 'कॉपी' को 'नीला' कहा जाता है, 'नीला' को 'कलम' कहा जाता है, 'कलम' को 'फोन' कहा जाता है, 'फोन' को 'प्लास्टिक' कहा जाता है, 'प्लास्टिक' को 'दूध' कहा जाता है। लिखने के लिए हम क्या उपयोग करते हैं?

- Ans
- 1. फोन
 - 2. नीला
 - 3. कॉपी
 - 4. प्लास्टिक

Question ID : 5459275868

Q.12 सिया, रिया से छोटी है। किशोर, रिया से छोटा है लेकिन सिया से बड़ा है। गौतम, रोहन और रिया दोनों से बड़ा है। रिया, रोहन से छोटी है। इन पाँच व्यक्तियों में से दूसरा सबसे छोटा कौन है?

- Ans
- 1. सिया
 - 2. किशोर
 - 3. रिया
 - 4. गौतम

Question ID : 5459275874

Q.13 P, Q, R, S, T और U छह बहनें हैं। Q, P से बड़ी है, लेकिन S से छोटी है। T, P से छोटी है। R और U जुड़वाँ हैं। P, R से छोटी है। Q, U से बड़ी है। निम्नलिखित में से कौन सा/से कथन सही है/हैं?

- I. Q, R से बड़ी है।
II. P, U से छोटी नहीं है।
III. R, S से छोटी है।
IV. T, छह बहनों में सबसे छोटी नहीं है।

- Ans 1. I, II और III
 2. I और II
 3. I और III
 4. I और IV

Question ID : 5459275873

Q.14 नीचे दिए गए प्रश्न में कुछ कथन और उनके बाद उन कथनों पर आधारित कुछ निष्कर्ष दिए गए हैं। दिए गए कथनों को सही माने, चाहे उनमें सामान्य ज्ञात तथ्यों से भिन्नता हो। सभी निष्कर्ष पढ़ें और फिर निर्धारित करें कि दिए गए कौन से निष्कर्ष, दिए गए कथनों के आधार पर युक्तिसंगत हैं।

कथन:

- I. सभी कुर्सियाँ मेज हैं।
II. कुछ कलम कुर्सियाँ हैं।

निष्कर्ष:

- I. कुछ मेज कलम हैं।
II. सभी कलम मेज हैं।

- Ans 1. दोनों निष्कर्ष I तथा II अनुसरण करते हैं।
 2. कोई भी निष्कर्ष अनुसरण नहीं करता है।
 3. केवल निष्कर्ष II अनुसरण करता है।
 4. केवल निष्कर्ष I अनुसरण करता है।

Question ID : 5459275876

Q.15 एक अनुक्रम दिया गया है, जिसमें से एक पद गलत है। दिए गए विकल्पों में से उस गलत पद को चुनिए।

EHJL, HJMN, KLNP, NNSR

- Ans 1. HJMN
 2. NNSR
 3. EHJL
 4. KLNP

Question ID : 5459275860

Q.16 निम्नलिखित प्रश्न में दिए गए विकल्पों में से संबंधित शब्दों को चुनिए।

न्यूटन : बल :: वॉट : ?

- Ans 1. आवृत्ति
 2. कार्य
 3. शक्ति
 4. लम्बाई

Question ID : 5459275866

Q.17 एक अनुक्रम दिया गया है, जिसमें से एक पद लुप्त है। दिए गए विकल्पों में से वह सही विकल्प चुनिए, जो अनुक्रम को पूरा करे।

A6, D8, G10, J12, ?

- Ans 1. N14
 2. M14
 3. N16
 4. M16

Question ID : 5459275861

Q.18 एक विशिष्ट कोड भाषा में, 'MEDIUM' को 'PBGFXJ' लिखा जाता है। इस कोड भाषा में 'WHITES' का कोड क्या है?

- Ans 1. ZELQHR
 2. ZFLQHP
 3. ZFLQHR
 4. ZELQHP

Question ID : 5459275870

Q.19 निम्नलिखित प्रश्न में दिए गए विकल्पों में से संबंधित शब्द युग्म को चुनिए।

दक्षिण : दिशा :: ?

- Ans 1. उत्तर : पश्चिम
 2. जानवर : चूहा
 3. किलोग्राम : फुट
 4. स्वर्ण : धातु

Question ID : 5459275865

Q.20 नीचे दिए गए प्रश्न में, चार अक्षर युग्म दिए गए हैं। (-) के बायीं ओर दिये गये अक्षर (-) के दायीं ओर दिये गये अक्षर से किसी तर्क/नियम/संबंध से संबंधित है। तीन उसी एक तर्क/नियम/संबंध के आधार पर समान हैं। दिए गए विकल्पों में से विषम को चुनिए।

- Ans 1. ST - XY
 2. DE - IJ
 3. NO - TS
 4. IJ - NO

Question ID : 5459275863

Section : Mental Ability2

Q.1 समान आकार के 64 छोटे घनों को साथ में जोड़कर एक ठोस घन बनाया गया है। इस ठोस घन की सभी फलकों को लाल रंग से रंगा गया है। कितने छोटे घनों की कम से कम एक फलक लाल रंग से रंगी गयी है?

- Ans 1. 60
 2. 62
 3. 54
 4. 56

Question ID : 5459275898

Q.2 सज्जन एक निश्चित बिंदु से 6 किमी पूर्व की ओर जाता है। फिर वह दाईं ओर मुड़ने के बाद 2 कि.मी. और जाता है। वह पुनः दायीं ओर मुड़ता है तथा 3 कि.मी. जाता है। अंत में वह बाईं ओर मुड़ने के बाद 2 कि.मी. जाता है। वह उस निश्चित बिंदु से कितनी दूर (सीधी रेखा दूरी) और किस दिशा में है?

- Ans
- 1. 5 कि.मी., दक्षिण-पूर्व
 - 2. 5 कि.मी., दक्षिण-पश्चिम
 - 3. 6 कि.मी., उत्तर-पूर्व
 - 4. 4 कि.मी., दक्षिण

Question ID : 5459275891

Q.3 यदि $A * B * B * C = A^2 + B^2 + C^2 + 2(AB + BC + CA)$ है, तो $(3 * 4 * 7) = ?$

- Ans
- 1. 224
 - 2. 196
 - 3. 138
 - 4. 216

Question ID : 5459275886

Q.4 निम्नलिखित प्रश्न में दिए गए विकल्पों में से प्रश्न चिन्ह (?) के स्थान पर आने वाली संख्या को चुनिए।

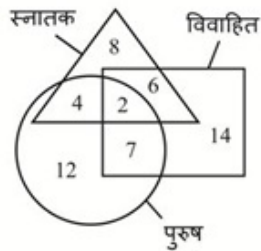
30	25	40	31	50	35
17	395	15	425	19	?

- Ans
- 1. 585
 - 2. 615
 - 3. 675
 - 4. 725

exampundit
Your Success Partner
www.exampundit.in pdf.exampundit.in

Question ID : 5459275883

Q.5 दी गई आकृति में कितने पुरुष स्नातक है, लेकिन विवाहित नहीं हैं?



- Ans
- 1. 7
 - 2. 6
 - 3. 4
 - 4. 2

Question ID : 5459275889

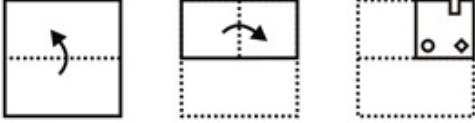
Q.6 नीचे दिए गए प्रश्न में, चार संख्या युग्म दिए गए हैं। (-) के बायीं ओर दी गई संख्या (-) के दायीं ओर दी गई संख्या से किसी तर्क/नियम/संबंध से संबंधित है। तीन उसी एक तर्क/नियम/संबंध के आधार पर समान हैं। दिए गए विकल्पों में से विषम को चुनिए।

Ans

- 1. 2894 – 576
- 2. 4761 – 168
- 3. 5768 – 1680
- 4. 7963 – 1136

Question ID : 5459275887

Q.7 नीचे के प्रश्न आकृतियों में दिखाए अनुसार कागज को मोड़कर छेदने तथा खोलने के बाद वह किस उत्तर आकृति जैसा दिखाई देगा?



Ans

- 1.
- 2.
- 3.
- 4.

Question ID : 5459275895

Q.8 निम्नलिखित प्रश्न में दी गई श्रृंखला में से लुप्त अंक ज्ञात कीजिए।

4, 9, 28, 113, 566, ?

- 1. 1827
- 2. 3397
- 3. 2367
- 4. 3693

Question ID : 5459275879

Q.9 नीचे दिए गए प्रश्न में, चार संख्या युग्म दिए गए हैं। (-) के बायीं ओर दी गई संख्या (-) के दायीं ओर दी गई संख्या से किसी तर्क/नियम/संबंध से संबंधित है। तीन उसी एक तर्क/नियम/संबंध के आधार पर समान हैं। दिए गए विकल्पों में से विषम को चुनिए।

- 1. 25 – 150
- 2. 112 – 120
- 3. 38 – 550
- 4. 125 – 350


Question ID : 5459275884

Q.10 दक्षिण दिशा की ओर जा रहा एक बच्चा पहले दाईं ओर मुड़ता है तथा फिर बाईं ओर मुड़ता है। वह अब किस दिशा में जा रहा है?

- Ans
- 1. पूर्व
 - 2. पश्चिम
 - 3. दक्षिण
 - 4. उत्तर

Question ID : 5459275890

Q.11 कौन सी उत्तर आकृति प्रश्न आकृति के प्रतिरूप को पूरा करेगी?



Ans

- 1.
- 2.
- 3.
- 4.

Question ID : 5459275893

Q.12 निम्नलिखित प्रश्न में दिए गए विकल्पों में से संबंधित संख्या को चुनिए।

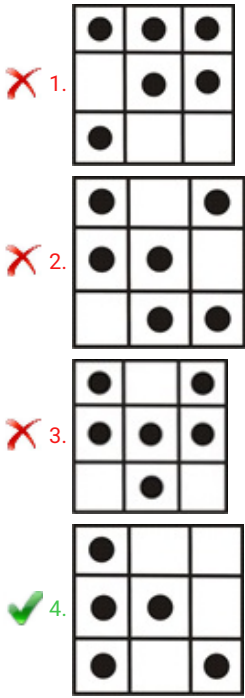
3747 : 1739 :: 2858 : ?

- Ans
- 1. 1824
 - 2. 1624
 - 3. 1064
 - 4. 2784

Question ID : 5459275880

Q.13 निम्नलिखित प्रश्न में, दिए गए विकल्पों में से विषम आकृति को चुनिए।

Ans



✗ 1.

✗ 2.

✗ 3.

✓ 4.

Question ID : 5459275892

Q.14 नीचे के प्रश्न आकृतियों में दिखाए अनुसार कागज को मोड़कर छेदने तथा खोलने के बाद वह किस उत्तर आकृति जैसा दिखाई देगा?



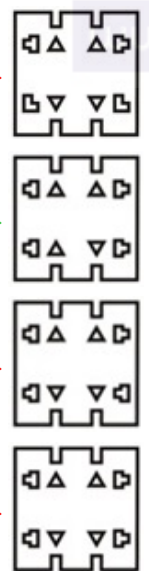
Ans

✗ 1.

✓ 2.

✗ 3.

✗ 4.



Question ID : 5459275897

Q.15 निम्नलिखित प्रश्न में दिए गए विकल्पों में से संबंधित संख्या को चुनिए।

234 : 99 :: 345 : ?

Ans

✗ 1. 263

✗ 2. 216

✗ 3. 116

✓ 4.50

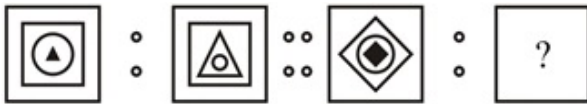
Question ID : 5459275881

Q.16 यदि 'W' का अर्थ 'x', 'X' का अर्थ '+', 'Y' का अर्थ '-' तथा 'Z' का अर्थ '+' हो, तो 4 W 12 Z 7 Y 28 X 4 Z 2 = ?

- Ans
- ✗ 1. 60
 - ✗ 2. 56
 - ✓ 3. 50
 - ✗ 4. 46

Question ID : 5459275885

Q.17 (::) के बायीं ओर दी गयी दो आकृतियाँ किसी तर्क/नियम/संबंध से संबंधित है। दिये गये विकल्पों में से (::) के दायीं ओर समान तर्क/नियम/संबंध पर आधारित लुप्त आकृति को चुनिये।



Ans

- ✗ 1.
- ✗ 2.
- ✗ 3.
- ✓ 4.

Question ID : 5459275894

Q.18 वह आरेख चुनिए जो नीचे दिए गए वर्गों के बीच के संबंध का सही निरूपण करता है।

मशीन, मोबाईल, गाड़ी

Ans

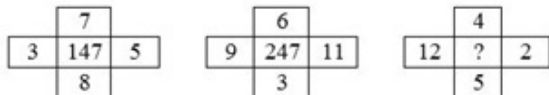
- ✗ 1.
- ✗ 2.
- ✗ 3.

✓ 4.



Question ID : 5459275888

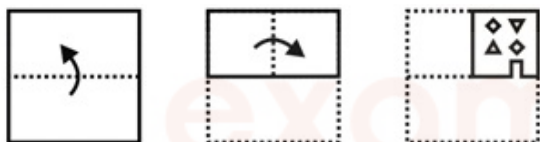
Q.19 निम्नलिखित प्रश्न में दिए गए विकल्पों में से प्रश्न चिन्ह (?) के स्थान पर आने वाली संख्या को चुनिए।



- Ans
- 1. 148
 - 2. 189
 - 3. 255
 - 4. 163

Question ID : 5459275882

Q.20 नीचे के प्रश्न आकृतियों में दिखाए अनुसार कागज को मोड़कर छेदने तथा खोलने के बाद वह किस उत्तर आकृति जैसा दिखाई देगा?

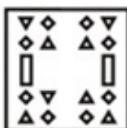


Ans

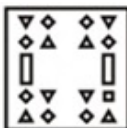
1.



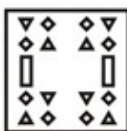
2.



3.



4.



Question ID : 5459275896

Section : General Awareness1

Q.1 कासी नदी निम्न में से किस राज्य से होकर बहती है?

- Ans
- 1. महाराष्ट्र
 - 2. मध्य प्रदेश
 - 3. राजस्थान

✓ 4. बिहार

Question ID : 5459275914

Q.2 _____ अर्थव्यवस्था में आधारभूत धन के स्टॉक को बढ़ाने/घटाने के लिए आम जनता को/से सरकारी प्रतिभूतियों की खरीद/बिक्री करता है/करते हैं।

- Ans
- 1. स्टेट बैंक
 - 2. ग्रामीण बैंक
 - 3. भारतीय रिज़र्व बैंक
 - 4. छोटे बैंक

Question ID : 5459275905

Q.3 फूल का कौन सा हिस्सा बीज में बदलता है?

- Ans
- 1. अंडप
 - 2. परागकण
 - 3. वर्तिकाग्र
 - 4. अंडाशय

Question ID : 5459275910

Q.4 कंचनजंगा किस राज्य में स्थित है?

- Ans
- 1. सिक्किम
 - 2. त्रिपुरा
 - 3. मेघालय
 - 4. मिजोरम

Question ID : 5459275918

Q.5 कर राजस्व के तहत आने वाले दो तरह के कर कौन से हैं?

- Ans
- 1. प्रत्यक्ष और अप्रत्यक्ष कर
 - 2. ऊपरी तथा नीचले
 - 3. स्थिर और गतिशील कर
 - 4. महत्वपूर्ण और महत्वहीन कर

Question ID : 5459275903

Q.6 डोल त्योहार _____ की होली है।

- Ans
- 1. मेघालय
 - 2. असम
 - 3. जम्मू और कश्मीर
 - 4. राजस्थान

Question ID : 5459275902

Q.7 सोनल मानसिंह किस नृत्य रूप से जुड़ी है?

- Ans
- 1. कथकली

- 2. मोहिनीअट्टम
- 3. भरतनाट्यम
- 4. कुचिपुड़ी

Question ID : 5459275901

Q.8 जब अम्ल विलयन को क्षारक विलयन के साथ मिलाया जाता है, तो अभिक्रिया के तापमान पर क्या प्रभाव पड़ता है?

- Ans
- 1. कोई परिवर्तन नहीं
 - 2. घटता है
 - 3. तेजी से घटता है
 - 4. बढ़ता है

Question ID : 5459275907

Q.9 कौन से कोषिका घटक कोषिका का अपशिष्ट पदार्थ निकासन तंत्र है?

- Ans
- 1. लाइसोसोम
 - 2. प्लैस्टिड
 - 3. माइटोकॉन्ड्रिया
 - 4. गॉल्जी उपकरण

Question ID : 5459275911

Q.10 मैग्नीशियम रिबन को पानी में धोलने पर यह एक नया पदार्थ बनाता है। उसे निम्न विकल्पों में से पहचानें।

- Ans
- 1. $Mg(OH)_2$
 - 2. MgO_2
 - 3. MgO
 - 4. $Mg(CO)_3$

Question ID : 5459275906

Q.11 मानव शरीर का कौन सा ऊतक वसा को संचित करता है?

- Ans
- 1. वसामय ऊतक
 - 2. उपास्थि ऊतक
 - 3. उपकला ऊतक
 - 4. एरिओलर ऊतक

Question ID : 5459275913

Q.12 किस प्रकार की खेती में निजी निगम कृषि उत्पादों के प्रसंस्करण/विपणन में शामिल होते हैं?

- Ans
- 1. गहन खेती
 - 2. अनुबंध खेती
 - 3. जीविका खेती
 - 4. काटना तथा जलाना खेती

Question ID : 5459275916

Q.13 निम्नलिखित में से कौन सा तबला वादक है?

- I. उस्ताद आलिया रखा खान
- II. समता प्रसाद
- III. ज़ाकिर हुसैन

- Ans
- 1. I, II तथा III
 - 2. केवल II
 - 3. केवल I
 - 4. I तथा III

Question ID : 5459275900

Q.14 पंजाब में कौन सा नृत्य किया जाता है?

- Ans
- 1. मयूर नृत्य
 - 2. चरकुला
 - 3. गिद्दा
 - 4. ग्रिडा

Question ID : 5459275899

Q.15 लेटराइट मिट्टी निम्नलिखित में से किस राज्य में पाई जा सकती है?

- I. कर्नाटक
- II. तमिलनाडु
- III. झारखंड

- Ans
- 1. I तथा III
 - 2. II तथा III
 - 3. I, II तथा III
 - 4. I तथा II

Question ID : 5459275917

Q.16 महासागरीय धाराएं किन दो प्रकार की होती हैं?

- I. कोष्ण समुद्र धारा
- II. शीतल समुद्र धारा

- Ans
- 1. केवल I
 - 2. I तथा II दोनों
 - 3. केवल II
 - 4. ना तो I ना तो II

Question ID : 5459275915

Q.17 परिवहन में सबसे महत्वपूर्ण खोज _____ का आविष्कार थी।

- Ans
- 1. रेलगाड़ी
 - 2. बैल गाड़ी
 - 3. पहिये
 - 4. भाप का इंजन

Q.18 निम्नलिखित में से कौन सा आवर्ती गति का उदाहरण नहीं है?

- Ans 1. एक लुढ़कती गेंद
 2. सिलाई मशीन की सुई
 3. गिटार की तार
 4. एक झूलता लोलक

Q.19 निम्नलिखित में से कौन सा जीव केवल खाल/त्वचा से सांस लेता है?

- Ans 1. कॉकरोच
 2. केंचुआ
 3. मछली
 4. मेंढक

Q.20 मौद्रिक प्राधिकरण, भारतीय रिज़र्व बैंक की कुल देयता को _____ कहा जाता है।

- Ans 1. देयता अनुपात
 2. देयता बीमा दर
 3. वैध निविदाएं
 4. आधारभूत धन

Section : General Awareness2

Q.1 निम्नलिखित में से किस शासक ने दिल्ली में लाल किले के निर्माण का काम शुरू करवाया था?

- Ans 1. कुतुबुद्दीन ऐबक
 2. शाहजहाँ
 3. मीर कासिम
 4. जहांगीर

Q.2 _____ ने सरस्वती सम्मान 2018 जीता था।

- Ans 1. गुलज़ार
 2. के. शिवा रेड्डी
 3. सीतांशु यशचंद्र
 4. जावेद अख्तर

Q.3 कॉमनवेल्थ गेम्स 2018 में भारत ने कितने स्वर्ण पदक जीते थे?

Ans

- 1. 26
- 2. 18
- 3. 20
- 4. 22

Question ID : 5459275936

Q.4 _____ ने फीफा विश्व कप 2018 में गोल्डन बूट पुरस्कार जीता था।

- Ans
- 1. थिबुत कोर्टिस
 - 2. काइलियान एम्बाप्पे
 - 3. हैरी केन
 - 4. एंटोनी ग्रीज़मैन

Question ID : 5459275937

Q.5 भारत के पहले मानवयुक्त अंतरिक्ष मिशन का नाम _____ है।

- Ans
- 1. आदित्य L1
 - 2. चंद्रयान
 - 3. गगनयान
 - 4. मंगलयान

Question ID : 5459275927

Q.6 किस संविधान संशोधन अधिनियम के माध्यम से, 'समाजवादी' शब्द को भारतीय संविधान की उद्देशिका में सम्मिलित किया गया था?

- Ans
- 1. 36वां
 - 2. 42वां
 - 3. 35वां
 - 4. 44वां

Question ID : 5459275935

Q.7 मध्यकालीन भारतीय इतिहास के दौरान, कल्हन ने निम्नलिखित में से कौन सी पुस्तक लिखी है?

- Ans
- 1. अकबरनामा
 - 2. राजतरंगिनी
 - 3. सबक-ए-हिन्दी
 - 4. भागवतम

Question ID : 5459275925

Q.8 राष्ट्रीय एकता दिवस निम्नलिखित में से किस शख्सियत के सम्मान में मनाया जाता है?

- Ans
- 1. सरदार वल्लभभाई पटेल
 - 2. सुभाष चंद्र बोस
 - 3. डॉ. बी.आर. अम्बेडकर
 - 4. महात्मा गांधी

Q.9 भारत में वित्तीय आपातकाल की घोषणा कौन कर सकता है?

- Ans
- 1. मुख्यमंत्री
 - 2. उपराष्ट्रपति
 - 3. राष्ट्रपति
 - 4. प्रधानमंत्री

Q.10 "द ऑडेसिटी ऑफ होप" पुस्तक _____ द्वारा लिखी गई है।

- Ans
- 1. बराक ओबामा
 - 2. शिन्ज़ो अबे
 - 3. डॉनल्ड ट्रम्प
 - 4. अरुण जेटली

Q.11 भारतीय संविधान के अनुसार, निम्नलिखित में से किस आधार पर किसी भी नागरिक के साथ विभेद नहीं किया जाएगा?

- I. मूलवंश
II. जाति

- Ans
- 1. केवल I
 - 2. ना तो I ना तो II
 - 3. केवल II
 - 4. I तथा II दोनों

Q.12 पूना पैक्ट किस वर्ष में हस्ताक्षरित किया गया था?

- Ans
- 1. 1951
 - 2. 1932
 - 3. 1942
 - 4. 1952

Q.13 जेम्स ऑगस्टस हिक्की ने 1780 में कौन सा अखबार प्रकाशित किया था?

- Ans
- 1. द बंगाल गजट
 - 2. मिरात-उल-अखबार
 - 3. द बॉम्बे हेराल्ड
 - 4. संवाद कौमुदी

Q.14 सर्वश्रेष्ठ अभिनेता का 2019 ऑस्कर पुरस्कार किसने जीता है?

Ans

- 1. अल्फांसो क्यूरोन
- 2. ब्रेडली कूपर
- 3. रामी मालेक
- 4. विगगो मोर्टेसन

Question ID : 5459275928

Q.15 निम्नलिखित में से कौन सा खिलाड़ी - खेल का युग्म सही नहीं है?

- Ans
- 1. सुरेश रैना- क्रिकेट
 - 2. दिव्यांश सिंह- शूटर
 - 3. मैरी कॉम-बॉक्सिंग
 - 4. संदीप सिंह- फुटबॉल

Question ID : 5459275938

Q.16 दांडी यात्रा _____ से शुरू हुआ और दांडी में समाप्त हुआ।

- Ans
- 1. सूरत
 - 2. गांधीनगर
 - 3. साबरमती
 - 4. वडोदरा

Question ID : 5459275921

Q.17 भारत के राष्ट्रपति को _____ के माध्यम से पद से हटाया जा सकता है।

- Ans
- 1. फटकार
 - 2. कास्टिंग
 - 3. आरोप
 - 4. महाभियोग

Question ID : 5459275932

Q.18 निम्नलिखित में से कौन सा राजा बुद्ध की शिक्षाओं से प्रभावित हुआ था?

- Ans
- 1. अशोक
 - 2. बिम्बिसार
 - 3. बिन्दुसार
 - 4. चंद्रगुप्त

Question ID : 5459275920

Q.19 निम्न में से कौन सी नदी भारत में नहीं बहती है?

- Ans
- 1. लूनी
 - 2. कृष्णा
 - 3. मेकांग
 - 4. महानदी

Question ID : 5459275919

Q.20 निम्नलिखित में से किसे 2019 में संयुक्त अरब अमीरात के सर्वोच्च नागरिक सम्मान जायद पदक से सम्मानित किया गया है?

- Ans
- 1. प्रणब मुखर्जी
 - 2. राजेश जैन
 - 3. नरेंद्र मोदी
 - 4. सुषमा स्वराज

Question ID : 5459275926

Section : Arithmetic Ability1

Q.1

$(3.1+2.9)^2 + (3.1-2.9)^2$ का मान क्या है?

- Ans
- 1. 32.18
 - 2. 36.04
 - 3. 30.14
 - 4. 34.14

Question ID : 5459275940

Q.2 यदि $A = (0.6)^2 + \sqrt{0.16} + \sqrt{0.0036}$ तथा $B = \sqrt{0.36} + \sqrt{0.16} + \sqrt{0.0009}$ का मान क्या है?

- Ans
- 1. 1.85
 - 2. 1.68
 - 3. 1.52
 - 4. 1.92

Question ID : 5459275946

Q.3 यदि एक संख्या 12 से विभाज्य है, तो वह _____ से भी विभाज्य होनी चाहिए।

- Ans
- 1. 24
 - 2. 8
 - 3. 9
 - 4. 6

Question ID : 5459275942

Q.4 31 अवलोकन का औसत 39 है। प्रथम 14 अवलोकन का औसत 31 है। अंतिम 18 अवलोकन का औसत 45 है। 14 वे अवलोकन का मान क्या है?

- Ans
- 1. 25
 - 2. 27
 - 3. 33
 - 4. 35

Question ID : 5459275951

Q.5 रमेश एक कार को 15 प्रतिशत की लाभ पर बेचता है। यदि वह इसे 30 प्रतिशत कम मूल्य पर खरीदता तथा 520 रुपये अधिक पर बेचता, तो उसे 70 प्रतिशत का कुल लाभ प्राप्त होता। कार का आरंभिक क्रय मूल्य क्या है?

- Ans
- 1. 14000 रुपये
 - 2. 16000 रुपये
 - 3. 9100 रुपये
 - 4. 13000 रुपये

Question ID : 5459275957

Q.6 यदि $48Y72X$, 72 से विभाज्य है, तो $X + Y$ का मान क्या है?

- Ans
- 1. 9
 - 2. 15
 - 3. 6 या 15
 - 4. 6

Question ID : 5459275941

Q.7 एक वस्तु को बेचने पर रजत ने 240 रुपये की छूट दी। यदि उस वस्तु का अंकित मूल्य 1200 रुपये है, तो छूट प्रतिशत क्या है?

- Ans
- 1. 10 प्रतिशत
 - 2. 40 प्रतिशत
 - 3. 20 प्रतिशत
 - 4. 25 प्रतिशत

Question ID : 5459275949

Q.8 एक कमीज पर 44 प्रतिशत की छूट देने के पश्चात भी एक व्यक्ति को 14 प्रतिशत का लाभ होता है। अंकित मूल्य तथा क्रय मूल्य का क्रमशः अनुपात क्या है?

- Ans
- 1. 28 : 57
 - 2. 51 : 28
 - 3. 114 : 51
 - 4. 57 : 28

Question ID : 5459275950

Q.9

निम्नलिखित में से कौन सा/से कथन सही है/हैं?

I. $3^{500} > 5^{300}$

II. $2^{200} > 200^2$

- Ans
- 1. ना तो I ना तो II
 - 2. केवल I
 - 3. केवल II
 - 4. I तथा II दोनों

Q.10 यदि $P = 2Q$ तथा $P + Q = 72$ हो, तो $P - Q$ का मान क्या है?

- Ans
- 1. 32
 - 2. 16
 - 3. 20
 - 4. 24

Q.11 यदि $723Y$, 9 से विभाज्य है, तो Y का मान क्या है?

- Ans
- 1. 4
 - 2. 8
 - 3. 3
 - 4. 6

Q.12 व्योम एक वस्तु को बेचकर 40 प्रतिशत का लाभ कमाता है। यदि लाभ को क्रय मूल्य पर परिकलित न करके वह विक्रय मूल्य पर परिकलित करता है, तो लाभ प्रतिशत क्या होगा?

- Ans
- 1. 14.28 प्रतिशत
 - 2. 35 प्रतिशत
 - 3. 20 प्रतिशत
 - 4. 28.56 प्रतिशत

Q.13 दाल के मूल्य में 30 प्रतिशत की कमी होने के कारण, एक व्यक्ति 420 रुपये में 6 कि.ग्रा. दाल अधिक खरीद पाता है। दाल का आरंभिक मूल्य क्या है?

- Ans
- 1. 25 रुपये/कि.ग्रा.
 - 2. 20 रुपये/कि.ग्रा.
 - 3. 21 रुपये/कि.ग्रा.
 - 4. 30 रुपये/कि.ग्रा.

Q.14 यदि एक वर्ग की भुजा को 35 प्रतिशत से बढ़ाया गया है, तो उसके क्षेत्रफल में कितने प्रतिशत की वृद्धि होगी?

- Ans
- 1. 78.25 प्रतिशत
 - 2. 84 प्रतिशत
 - 3. 70 प्रतिशत
 - 4. 82.25 प्रतिशत

Q.15 निम्नलिखित में से कौन सा/से कथन सही है/हैं?

- I. $4/7 > 5/11 > 3/5$
- II. $7/5 > 11/9 > 13/7$

- Ans
- 1. केवल I
 - 2. I तथा II दोनों
 - 3. केवल II
 - 4. ना तो I ना तो II

Question ID : 5459275948

Q.16 सुरेश एक कमीज को 960 रुपये में खरीदता है तथा उसे 576 रुपये में बेचता है। हानि प्रतिशत क्या है?

- Ans
- 1. 20 प्रतिशत
 - 2. 40 प्रतिशत
 - 3. 33.33 प्रतिशत
 - 4. 66.66 प्रतिशत

Question ID : 5459275955

Q.17 एक आयत की लम्बाई तथा चौड़ाई को क्रमशः 32 प्रतिशत तथा 30 प्रतिशत से घटाया गया है। इसके क्षेत्रफल में कितने प्रतिशत की कमी होगी?

- Ans
- 1. 46.4 प्रतिशत
 - 2. 52.4 प्रतिशत
 - 3. 48.6 प्रतिशत
 - 4. 38.6 प्रतिशत

Question ID : 5459275953

Q.18 A तीन अंको की ऐसी सबसे छोटी संख्या है जो 8 तथा 12 विभाजित करने पर शेषफल क्रमशः 6 तथा 10 देती है। B दो अंको की वह सबसे बड़ी संख्या है जो 7 तथा 8 दोनों से विभाज्य है। A + B का मान क्या है?

- Ans
- 1. 172
 - 2. 168
 - 3. 180
 - 4. 174

Question ID : 5459275944

Q.19 107 से 477 की कितनी ऐसी संख्याएँ हैं जो ना तो 2 से ना तो 5 से विभाज्य हैं?

- Ans
- 1. 149
 - 2. 151
 - 3. 147
 - 4. 153

Question ID : 5459275943

Q.20 यदि $A = \frac{1}{15} + \frac{1}{35} + \frac{1}{63}$ तथा $B = \frac{1}{56} + \frac{1}{42} + \frac{1}{30}$ का मान क्या है?

- Ans
- 1. 39/170
 - 2. 67/360
 - 3. 47/310

Section : Arithmetic Ability2

Q.1 नीचे दी गयी तालिका विभिन्न पुरुषों द्वारा जमा की गयी बोतलों की संख्या को दर्शाती है।

पुरुष	बोतलों की संख्या
G1	120
G2	138
G3	156
G4	128
G5	176

G5 द्वारा जमा की गयी बोतलों की संख्या G1 द्वारा जमा की गयी बोतलों की संख्या का कितना प्रतिशत है?

- Ans
- 1. 66.66 प्रतिशत
 - 2. 26.66 प्रतिशत
 - 3. 46.66 प्रतिशत
 - 4. 6.66 प्रतिशत

Question ID : 5459275974

Q.2 सूरज एक कार्य को 60 दिन में कर सकता है तथा अशोक उसी कार्य को 20 दिन में कर सकता है। वे कार्य को साथ करना आरंभ करते हैं, परंतु सूरज कार्य आरंभ होने के 12 दिन पश्चात कार्य छोड़कर चला जाता है। शेष कार्य को अशोक अकेला कितने दिन में पूरा करेगा?

- Ans
- 1. 6 दिन
 - 2. 3 दिन
 - 3. 4 दिन
 - 4. 5 दिन

Question ID : 5459275967

Q.3 एक रेलगाड़ी की गति 108 कि.मी./घंटा है। यदि रेलगाड़ी की लम्बाई 420 मीटर है, तो वह एक खंभे को पूरा पार करने में कितना समय लेगी?

- Ans
- 1. 14 सेकण्ड
 - 2. 18 सेकण्ड
 - 3. 15 सेकण्ड
 - 4. 12 सेकण्ड

Question ID : 5459275964

Q.4 एक ठोस धातु के गोले की त्रिज्या 14 से.मी. है। यदि इसे पिघलाकर 3.5 से.मी. त्रिज्या वाले छोटे गोले बनाए जाए, तो छोटे गोले कितने प्राप्त होंगे?

- Ans
- 1. 36
 - 2. 52
 - 3. 40

✓ 4. 64

Question ID : 5459275970

Q.5 एक नाव की गति धारा के अनुकूल 40 कि.मी./घंटा है तथा धारा की गति 15 कि.मी./घंटा है। धारा के अनुकूल 240 कि.मी. तथा धारा के प्रतिकूल 110 कि.मी. दूरी तय करने में नाव द्वारा कुल कितना समय लिया जायेगा?

- Ans
- ✓ 1. 17 घंटे
 - ✗ 2. 21 घंटे
 - ✗ 3. 12 घंटे
 - ✗ 4. 23 घंटे

Question ID : 5459275965

Q.6 चेतन अकेले एक कार्य को 16 दिन में पूरा कर सकता है। चेतन अकेले कार्य शुरू करता है लेकिन 11 दिन पश्चात कार्य छोड़ देता है। यदि रवि अकेले बचा हुआ कार्य 15 दिन में पूरा करता है, तो रवि अकेले पूरे कार्य को कितने दिन में पूरा कर सकता है?

- Ans
- ✗ 1. 24 दिन
 - ✗ 2. 40 दिन
 - ✓ 3. 48 दिन
 - ✗ 4. 34 दिन

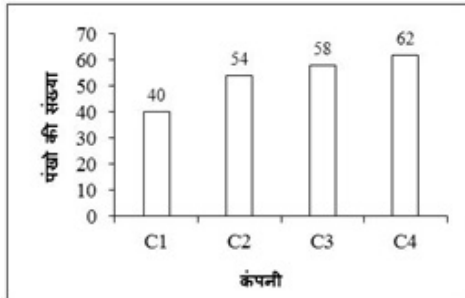
Question ID : 5459275968

Q.7 35000 रुपये को 12 प्रतिशत प्रति वर्ष की दर से रखा जाता है। 2 वर्ष के चक्रवृद्धि ब्याज तथा साधारण ब्याज का अंतर क्या है?

- Ans
- ✓ 1. 504 रुपये
 - ✗ 2. 416 रुपये
 - ✗ 3. 608 रुपये
 - ✗ 4. 576 रुपये

Question ID : 5459275963

Q.8 नीचे दिया गया दण्ड चित्र में एक दुकानदार द्वारा विभिन्न कंपनियों के बेचे गए पंखों की संख्या को दर्शाता है।



दुकानदार द्वारा बेचे गये पंखों की कुल संख्या क्या है?

- Ans
- ✗ 1. 220
 - ✗ 2. 216
 - ✓ 3. 214
 - ✗ 4. 218

Q.9 Mr. X तथा Mr. Y ने एक व्यापार में 5 : 8 के अनुपात में पूँजी निवेश की। Mr. X ने 16 महीने के लिए निवेश किया। यदि Mr. X तथा Mr. Y को 1 : 2 के अनुपात में लाभ प्राप्त हुआ है, तो Mr. Y ने कितने महीनों के लिए निवेश किया होगा?

- Ans
- 1. 24 माह
 - 2. 20 माह
 - 3. 26 माह
 - 4. 18 माह

Q.10 नीचे दी गयी तालिका हफ्ते के विभिन्न दिनों पर बेचे गये जूते की जोड़ी की संख्या को दर्शाती है।

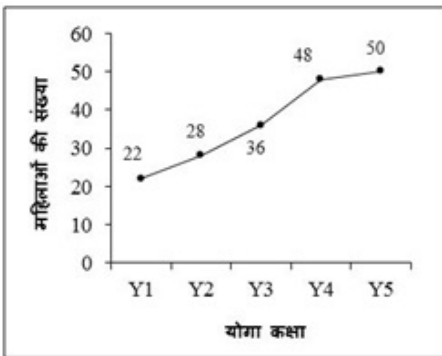
दिन	जूते के युग्म की संख्या
D1	184
D2	192
D3	198
D4	214
D5	234
D6	252
D7	268

प्रतिदिन बेचे गये जूते की जोड़ियों की औसत संख्या क्या है?

- Ans
- 1. 220.28
 - 2. 218.28
 - 3. 212.28
 - 4. 224.28

www.exampundit.in

Q.11 नीचे दिया गया रेखा चित्र विभिन्न योगा क्लास में शामिल महिलाओं की संख्या को दर्शाता है।



Y5 में शामिल महिलाओं की संख्या Y1 तथा Y4 में शामिल कुल महिला से कितना प्रतिशत कम है?

- Ans
- 1. 28.57 प्रतिशत
 - 2. 24.57 प्रतिशत
 - 3. 16.57 प्रतिशत
 - 4. 20.57 प्रतिशत

दो प्रवेशिका पाइप एक टैंक को क्रमशः 50 मिनट तथा 100 मिनट में भर सकते हैं। एक निकास पाइप टैंक 3 लीटर प्रति मिनट खाली कर सकता है। यदि तीनों पाइपों को खोल दिया जाए, तो टैंक 40 मिनट में पूरा भर जाएगा। टैंक की क्षमता क्या है?

- Ans
- 1. 450 लीटर
 - 2. 600 लीटर
 - 3. 200 लीटर
 - 4. 500 लीटर

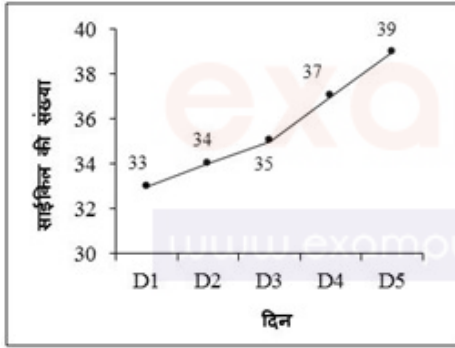
Question ID : 5459275969

Q.13 यदि $x = (3/4)y$ तथा $y = (2/3)z$ हो, तो $x : y : z$ क्या है?

- Ans
- 1. 6 : 4 : 3
 - 2. 2 : 4 : 1
 - 3. 1 : 4 : 2
 - 4. 3 : 4 : 6

Question ID : 5459275959

Q.14 नीचे दिया गया रेखा चित्र हफ्ते के विभिन्न दिनों पर एक मैकेनिक द्वारा मरम्मत साइकिल की संख्या को दर्शाता है।



D1 में मरम्मत की गयी साइकिलों की संख्या, D5 में मरम्मत की गयी साइकिलों की संख्या से कितना प्रतिशत कम है?

- Ans
- 1. 20.38 प्रतिशत
 - 2. 25.38 प्रतिशत
 - 3. 10.38 प्रतिशत
 - 4. 15.38 प्रतिशत

Question ID : 5459275978

Q.15 मोहित तथा सुमित एक दूसरे से 320 मीटर दूर हैं तथा सुमित मोहित से आगे है। वे दोनों एक ही दिशा में जा रहे हैं। मोहित, सुमित को 80 सेकण्ड में पकड़ लेता है। यदि सुमित की गति 36 कि.मी./घंटा है, तो मोहित की गति क्या है?

- Ans
- 1. 190 कि.मी./घंटा
 - 2. 160 कि.मी./घंटा
 - 3. 180 कि.मी./घंटा
 - 4. 150 कि.मी./घंटा

Question ID : 5459275966

Q.16 एक वर्ग तथा आयत का क्षेत्रफल बराबर है। आयत की लम्बाई वर्ग की भुजा से 15 से.मी. अधिक है तथा उसकी चौड़ाई वर्ग की भुजा से 5 से.मी. कम है। आयत का क्षेत्रफल क्या है?

- Ans
- 1. 51.75 से.मी.²
 - 2. 48.75 से.मी.²
 - 3. 56.75 से.मी.²
 - 4. 58.5 से.मी.²

Question ID : 5459275972

Q.17 नीचे दिया गया वृत्त चित्र अलमारी में विभिन्न रंगों के जूतों की संख्या को दर्शाता है। संख्या को अलमारी में जूतों की कुल संख्या के प्रतिशत के रूप में दर्शाया गया है।



लाल रंग के जूतों द्वारा बनाया गया केंद्रीय कोण क्या है?

- Ans
- 1. 30°
 - 2. 36°
 - 3. 16°
 - 4. 24°

exam pundit
Your Success Partner
www.exampundit.in pdf.exampundit.in

Question ID : 5459275975

Q.18 25000 रुपये को चक्रवृद्धि ब्याज (वार्षिक संयोजन) पर रखा जाता है। यदि ब्याज की दर 8 प्रतिशत प्रति वर्ष है, तो 2 वर्ष का ब्याज क्या है?

- Ans
- 1. 4160 रुपये
 - 2. 4480 रुपये
 - 3. 4360 रुपये
 - 4. 4280 रुपये

Question ID : 5459275962

Q.19 एक धनराशि जब साधारण ब्याज पर रखी जाती है तो वह 3 वर्ष में 6800 रुपये तथा 5 वर्ष में 8000 रुपये हो जाती है। प्रति वर्ष ब्याज की दर क्या है?

- Ans
- 1. 12 प्रतिशत
 - 2. 1 प्रतिशत
 - 3. 16 प्रतिशत
 - 4. 14 प्रतिशत

Question ID : 5459275961

Q.20 एक गोले को पिघलाकर एक बेलन बनाया गया जिसकी ऊँचाई उसकी त्रिज्या की 1/6 है। यदि गोले की त्रिज्या 6

से.मी. है, तो बेलन की त्रिज्या क्या है?

- Ans
- 1. 8 से.मी.
 - 2. 14 से.मी.
 - 3. 12 से.मी.
 - 4. 10 से.मी.

Question ID : 5459275971

Section : General English1

Q.1 Find the part of the given sentence that has an error in it. If there is no error, choose 'No error'.

Radha (1) / refuse to go (2) / to the party yesterday (3) / . No error (4)

- Ans
- 1. 2
 - 2. 4
 - 3. 1
 - 4. 3

Question ID : 5459275979

Q.2 A sentence has been given with a blank to be filled with an appropriate word. Choose the correct alternative.

They were stupid _____ forget the ID cards.

- Ans
- 1. of
 - 2. to
 - 3. with
 - 4. in

Question ID : 5459275995

Q.3 Improve the bracketed part of the sentence.

Due to emergency conditions, the army was asked to stand (up).

- Ans
- 1. by
 - 2. out
 - 3. in
 - 4. No Improvement

Question ID : 5459275986

Q.4 Find the part of the given sentence that has an error in it. If there is no error, choose 'No error'.

Not only Sanya / (1) and also Sam (2) / has failed the examination (3) / . No error (4)

- Ans
- 1. 3
 - 2. 4
 - 3. 2

 4.1

Question ID : 5459275983

Q.5 A sentence has been given with a blank to be filled with an appropriate word. Choose the correct alternative.

Sarthak _____ the first prize in yesterday's race.

- Ans  1. won
 2. win
 3. wins
 4. have won

Question ID : 5459275989

Q.6 Find the part of the given sentence that has an error in it. If there is no error, choose 'No error'.

I shall (1) / be late for (2) today meeting (3) /. No error (4)

- Ans  1. 3
 2. 2
 3. 1
 4. 4

Question ID : 5459275980

Q.7 The question below consists of a set of labeled sentences. Out of the four options given, select the most logical order of the sentences to form a coherent paragraph.

P: because our school had shown

R: last Wednesday,

Q: our headmaster gave us a holiday





S: brilliant results in the High School Examination

- Ans  1. QSRP
 2. PQRS
 3. PSRQ
 4. RQPS

Question ID : 5459275997

Q.8 A sentence has been given with a blank to be filled with an appropriate word. Choose the correct alternative.

It needs to be _____ with great care.

- Ans  1. done
 2. do
 3. did
 4. doing

Question ID : 5459275993

Q.9 The question below consists of a set of labeled sentences. Out of the four options given, select the most logical order of the sentences to form a coherent paragraph.

P: deal of noise and in the
Q: confusion I could hardly
R: make out the cause of quarrel
S: the people were making a great

- Ans
- 1. SRQP
 - 2. SPQR
 - 3. SPRQ
 - 4. PQRS

Question ID : 5459275998

Q.10 Improve the bracketed part of the sentence.

(Since) he got home last night is still a mystery to me.

- Ans
- 1. Although
 - 2. How
 - 3. No Improvement
 - 4. While

Question ID : 5459275984

Q.11 Find the part of the given sentence that has an error in it. If there is no error, choose 'No error'.

One should (1) / fulfil one's (2) / promises (3) / No error (4)

- Ans
- 1. 2
 - 2. 4
 - 3. 1
 - 4. 3

exampundit
Your Success Partner
www.exampundit.in pdf.exampundit.in

Question ID : 5459275981

Q.12 Improve the bracketed part of the sentence.

She hurt her back while she (worked) yesterday.

- Ans
- 1. had worked
 - 2. No Improvement
 - 3. worked out
 - 4. was working

Question ID : 5459275987

Q.13 A sentence has been given with a blank to be filled with an appropriate word. Choose the correct alternative.

She told her dentist to take _____ the bad tooth.

- Ans
- 1. along
 - 2. over
 - 3. up
 - 4. out

Question ID : 5459275991

Q.14 Improve the bracketed part of the sentence.

The police filed a case (to) the car driver for wrong parking.

- Ans
- 1. No Improvement
 - 2. for
 - 3. by
 - 4. against

Question ID : 5459275988

Q.15 A sentence has been given with a blank to be filled with an appropriate word. Choose the correct alternative.

Sam is not in a mood _____ studying.

- Ans
- 1. with
 - 2. of
 - 3. in
 - 4. to

Question ID : 5459275990

Q.16 Find the part of the given sentence that has an error in it. If there is no error, choose 'No error'.

Till the end (1) / of June my (2) / results will be out (3) /. No error

- Ans
- 1. 3
 - 2. 1
 - 3. 4
 - 4. 2

Question ID : 5459275982

Q.17 A sentence has been given with a blank to be filled with an appropriate word. Choose the correct alternative.

She dare not _____ the child.

- Ans
- 1. punishes
 - 2. punishing
 - 3. punished
 - 4. punish

Question ID : 5459275996

Q.18 Improve the bracketed part of the sentence.

He denied that he (had not forged) my signature.

- Ans
- 1. did not forge
 - 2. No Improvement
 - 3. had forged
 - 4. forged

Question ID : 5459275985

Q.19 A sentence has been given with a blank to be filled with an appropriate word. Choose the correct alternative.

This work needs time _____ patience.

- Ans
- 1. and
 - 2. but
 - 3. because
 - 4. also

Question ID : 5459275992

Q.20 A sentence has been given with a blank to be filled with an appropriate word. Choose the correct alternative.

It is impossible to _____ without air.

- Ans
- 1. lived
 - 2. live
 - 3. lives
 - 4. living

Question ID : 5459275994

Section : General English2

Your Success Partner

Q.1 In the following question, out of the given four alternatives, select the alternative which best expresses the meaning of the Idiom/Phrase.

For good

- Ans
- 1. Completely
 - 2. Deliberately
 - 3. Forever
 - 4. A secret

Question ID : 5459276009

Q.2 Choose the word that is opposite in meaning to the given word.

Separate

- Ans
- 1. Apart
 - 2. Conjoin
 - 3. Part
 - 4. Divided

Question ID : 5459276000

Q.3 Choose the word that is opposite in meaning to the given word.

Quarrel

Ans

- 1. Dissension
- 2. Accord
- 3. Believe
- 4. Strife

Question ID : 5459276004

Q.4 In the given question, four words are given out of which one word is correctly spelt. Choose the correctly spelt word.

- Ans
- 1. Calander
 - 2. Kalendar
 - 3. Calender
 - 4. Calendar

Question ID : 5459276006

Q.5 In the given question, four words are given out of which one word is correctly spelt. Choose the correctly spelt word.

- Ans
- 1. Ocurrence
 - 2. Occurance
 - 3. Occurence
 - 4. Occurrence

Question ID : 5459276005

Q.6 Choose the word that means the same as the given word.

Condemn

- Ans
- 1. Blame
 - 2. Abolish
 - 3. Grow
 - 4. Praise

Question ID : 5459276002

Q.7 In the following question, out of the given four alternatives, select the alternative which best expresses the meaning of the Idiom/Phrase.

At the eleventh hour

- Ans
- 1. Upright
 - 2. Familiar with
 - 3. Never
 - 4. At the very last moment

Question ID : 5459276008

Q.8 Choose the word that can substitute the given sentence.

Government not connected with religious or spiritual matters.

- Ans
- 1. Theocracy

- 2. Anarchy
- 3. Democracy
- 4. Secular

Question ID : 5459276012

Q.9 In the following question, out of the given four alternatives, select the alternative which best expresses the meaning of the Idiom/Phrase.

Ins and outs

- Ans** 1. The details of anything
- 2. Valid
 - 3. Approximately
 - 4. Owing to

Question ID : 5459276010

Q.10 Choose the word that means the same as the given word.

Disclaim

- Ans** 1. Spend
- 2. Repudiate
 - 3. Defray
 - 4. Follow

Question ID : 5459276003

Q.11 Choose the word that can substitute the given sentence.

A place where bodies are kept for identification

- Ans** 1. Sanatorium
- 2. Hospital
 - 3. Morgue
 - 4. Crematory

Question ID : 5459276011

Q.12 In the given question, four words are given out of which one word is correctly spelt. Choose the correctly spelt word.

- Ans** 1. Athiest
- 2. Atheast
 - 3. Atheist
 - 4. Etheist

Question ID : 5459276007

Q.13 The question below consists of a set of labeled sentences. Out of the four options given, select the most logical order of the sentences to form a coherent paragraph.

- P:** but a closer analysis would reveal that adversity has its own advantages.
Q: everybody wants to live in joy, peace and plenty.

R: nobody wants to fall in the grip of adversity.
S: normally adversity is a dreaded thing.

- Ans
- 1. QRSP
 - 2. SRQP
 - 3. PQRS
 - 4. SQRP

Question ID : 5459275999

Q.14 Choose the word that can substitute the given sentence.

Destruction or abortion of a fetus.

- Ans
- 1. Filicide
 - 2. Foeticide
 - 3. Cortege
 - 4. Fratricide

Question ID : 5459276013

Q.15 Choose the word that means the same as the given word.

Alien

- Ans
- 1. Foreigner
 - 2. Known
 - 3. Native
 - 4. Companion

examplepundit
Your Success Partner

www.examplepundit.in

pdf.example

Question ID : 5459276001

Comprehension:

Read the following information carefully and answer the given questions.

The first American stock exchange originated in 1792 when 24 brokers wrote and signed the Buttonwood Tree Agreement. The agreement was drafted in response to the lack of organization that plagued the colonial economy. It was the first attempt to regulate the American market. The futures or commodities exchange was a separate trading platform that emerged from the need for regulated trading practices in agricultural communities. This market would not be standardized until 1848 when the Chicago Board of Trade was founded. The futures market facilitates the trade of contract agreements that guarantee the buyer a price for future delivery of goods. Although in many ways, the futures market was more stable than the stock market, early investors were more skeptical of the futures market primarily because it was a ripe environment for speculators to trade and sell. In the 19th century, investors looked down on futures traders, viewing them as market manipulators, who engaged in wanton speculation. These investors did not realize that similar criticisms were levied against the stock market when it was first established in the United States. At the stock market's inception, wild speculation and price gouging ran rampant in the US economy. Ironically, the early agrarian futures contracts were crucial in maintaining the stability of the US market economy and were specifically designed to reduce the risk for producers. In fact, the very speculators who were so feared by 19th-century investors actually made the market more efficient and kept prices stable. Futures contracts were standardized as to the quantity, quality, location and time of delivery for each commodity that was bought or sold. Both the standardized nature of futures contracts and the haggling over price by speculators, investment risk, guaranteed that the futures contracts would be bought and sold at fair prices. It was only in the 20th century that investors began to understand how the standard mechanisms of the futures markets could also serve the stock market.

SubQuestion No : 16

Q.16 Which of the following generalizations regarding trading platforms would the author most likely agree?

Ans

- 1. Modern trading platforms do not differ greatly from early trading platforms
- 2. Some trading platforms were established in order to standardise national trading practices
- 3. The most stable trading platforms are those that trade contracts instead of stocks
- 4. No option is correct

Question ID : 5459276016

Comprehension:

Read the following information carefully and answer the given questions.

The first American stock exchange originated in 1792 when 24 brokers wrote and signed the Buttonwood Tree Agreement. The agreement was drafted in response to the lack of organization that plagued the colonial economy. It was the first attempt to regulate the American market. The futures or commodities exchange was a separate trading platform that emerged from the need for regulated trading practices in agricultural communities. This market would not be standardized until 1848 when the Chicago Board of Trade was founded. The futures market facilitates the trade of contract agreements that guarantee the buyer a price for future delivery of goods. Although in many ways, the futures market was more stable than the stock market, early investors were more skeptical of the futures market primarily because it was a ripe environment for speculators to trade and sell. In the 19th century, investors looked down on futures traders, viewing them as market manipulators, who engaged in wanton speculation. These investors did not realize that similar criticisms were levied against the stock market when it was first established in the United States. At the stock market's inception, wild speculation and price gouging ran rampant in the US economy. Ironically, the early agrarian futures contracts were crucial in maintaining the stability of the US market economy and were specifically designed to reduce the risk for producers. In fact, the very speculators who were so feared by 19th-century investors actually made the market more efficient and kept prices stable. Futures contracts were standardized as to the quantity, quality, location and time of delivery for each commodity that was bought or sold. Both the standardized nature of futures contracts and the haggling over price by speculators, investment risk, guaranteed that the futures contracts would be bought and sold at fair prices. It was only in the 20th century that investors began to understand how the standard mechanisms of the futures markets could also serve the stock market.

SubQuestion No : 17

Q.17 Which of the following best states the main point of the passage?

- Ans
- 1. The trading mechanisms of the future market are fundamentally the same as those of the stock market
 - 2. The US future market, whose procedures early investors distrusted, actually promoted economic stability
 - 3. The creation of the stock market in the 18th century provided a model for the emergence of the futures market
 - 4. The success of the futures market like that of the stock market, depended on its ability to prevent speculation

Question ID : 5459276018

Comprehension:

Read the following information carefully and answer the given questions.

The first American stock exchange originated in 1792 when 24 brokers wrote and signed the Buttonwood Tree Agreement. The agreement was drafted in response to the lack of organization that plagued the colonial economy. It was the first attempt to regulate the American market. The futures or commodities exchange was a separate trading platform that emerged from the need for regulated trading practices in agricultural communities. This market would not be standardized until 1848 when the Chicago Board of Trade was founded. The futures market facilitates the trade of contract agreements that guarantee the buyer a price for future delivery of goods. Although in many ways, the futures market was more stable than the stock market, early investors were more skeptical of the futures market primarily because it was a ripe environment for speculators to trade and sell. In the 19th century, investors looked down on futures traders, viewing them as market manipulators, who engaged in wanton speculation. These investors did not realize that similar criticisms were levied against the stock market when it was first established in the United States. At the stock market's inception, wild speculation and price gouging ran rampant in the US economy. Ironically, the early agrarian futures contracts were crucial in maintaining the

stability of the US market economy and were specifically designed to reduce the risk for producers. In fact, the very speculators who were so feared by 19th-century investors actually made the market more efficient and kept prices stable. Futures contracts were standardized as to the quantity, quality, location and time of delivery for each commodity that was bought or sold. Both the standardized nature of futures contracts and the haggling over price by speculators, investment risk, guaranteed that the futures contracts would be bought and sold at fair prices. It was only in the 20th century that investors began to understand how the standard mechanisms of the futures markets could also serve the stock market.

SubQuestion No : 18

Q.18 Which of the following statement is false regarding future contracts?

- Ans
- 1. These incur investment risk
 - 2. No option is correct
 - 3. It is standardized as to the quality, quantity, location and time of delivery of each commodities
 - 4. It is concerned with both the bought and sold of the items

Question ID : 5459276019

Comprehension:

Read the following information carefully and answer the given questions.

The first American stock exchange originated in 1792 when 24 brokers wrote and signed the Buttonwood Tree Agreement. The agreement was drafted in response to the lack of organization that plagued the colonial economy. It was the first attempt to regulate the American market. The futures or commodities exchange was a separate trading platform that emerged from the need for regulated trading practices in agricultural communities. This market would not be standardized until 1848 when the Chicago Board of Trade was founded. The futures market facilitates the trade of contract agreements that guarantee the buyer a price for future delivery of goods. Although in many ways, the futures market was more stable than the stock market, early investors were more skeptical of the futures market primarily because it was a ripe environment for speculators to trade and sell. In the 19th century, investors looked down on futures traders, viewing them as market manipulators, who engaged in wanton speculation. These investors did not realize that similar criticisms were levied against the stock market when it was first established in the United States.

At the stock market's inception, wild speculation and price gouging ran rampant in the US economy. Ironically, the early agrarian futures contracts were crucial in maintaining the stability of the US market economy and were specifically designed to reduce the risk for producers. In fact, the very speculators who were so feared by 19th-century investors actually made the market more efficient and kept prices stable. Futures contracts were standardized as to the quantity, quality, location and time of delivery for each commodity that was bought or sold. Both the standardized nature of futures contracts and the haggling over price by speculators, investment risk, guaranteed that the futures contracts would be bought and sold at fair prices. It was only in the 20th century that investors began to understand how the standard mechanisms of the futures markets could also serve the stock market.

SubQuestion No : 19

Q.19 Choose a word from the passage which means the same as originated

- Ans
- 1. Engaged
 - 2. Regulated
 - 3. Agrarian
 - 4. Emerged

Question ID : 5459276015

Comprehension:

Read the following information carefully and answer the given questions.

The first American stock exchange originated in 1792 when 24 brokers wrote and signed the Buttonwood Tree Agreement. The agreement was drafted in response to the lack of organization that plagued the colonial economy. It was the first attempt to regulate the American market. The futures or commodities exchange was a separate trading platform that emerged from the need for regulated trading practices in agricultural communities. This market would not be standardized until 1848 when the Chicago Board of Trade was founded. The futures market facilitates the trade of contract agreements that guarantee the buyer a

price for future delivery of goods. Although in many ways, the futures market was more stable than the stock market, early investors were more skeptical of the futures market primarily because it was a ripe environment for speculators to trade and sell. In the 19th century, investors looked down on futures traders, viewing them as market manipulators, who engaged in wanton speculation. These investors did not realize that similar criticisms were levied against the stock market when it was first established in the United States. At the stock market's inception, wild speculation and price gouging ran rampant in the US economy. Ironically, the early agrarian futures contracts were crucial in maintaining the stability of the US market economy and were specifically designed to reduce the risk for producers. In fact, the very speculators who were so feared by 19th-century investors actually made the market more efficient and kept prices stable. Futures contracts were standardized as to the quantity, quality, location and time of delivery for each commodity that was bought or sold. Both the standardized nature of futures contracts and the haggling over price by speculators, investment risk, guaranteed that the futures contracts would be bought and sold at fair prices. It was only in the 20th century that investors began to understand how the standard mechanisms of the futures markets could also serve the stock market.

SubQuestion No : 20

Q.20 The author discusses early agrarian future contracts in order to

- Ans** 1. Refute the view that speculation compromised the stability and integrity of the futures market
2. Support the argument that standard mechanisms of futures trading can be applied to the stock market
3. Emphasize the importance of speculation to the stability of the US market economy
4. Illustrate how these contracts contributed to the effectiveness of speculative trading

Question ID : 5459276017

Section : General Hindi1

Q.1 दिए गए शब्द का पर्यायवाची ज्ञान कीजिए।

वटमार

- Ans** 1. पक्षी
2. डाकू
3. फल
4. शैतान

Question ID : 5459276028

Q.2 दिए गए शब्द में किस प्रकार की संधि है ज्ञात कीजिए।

निस्तेज

- Ans** 1. दीर्घ संधि
2. अयादि संधि
3. विसर्ग संधि
4. यण संधि

Question ID : 5459276020

Q.3 निम्नलिखित में से किस वाक्य में कर्मवाच्य का प्रयोग हुआ है?

- Ans** 1. बच्चे से चला नहीं जाता।
2. राम पत्र पढ़ता है।
3. मुझसे नहीं पढ़ा जाता।

✓ 4. राम द्वारा पत्र पढ़ा जाता है।

Question ID : 5459276038

Q.4 दिए गए शब्द का विलोम शब्द ज्ञात कीजिए।

आलोक

- Ans
- ✗ 1. रोशनी
 - ✓ 2. अंधकार
 - ✗ 3. छाया
 - ✗ 4. धूप

Question ID : 5459276030

Q.5 दिए गए वाक्य में काल का रूप ज्ञात कीजिए।

सम्भव है कि वह कल आ जाएगा।

- Ans
- ✗ 1. उपर्युक्त सभी
 - ✓ 2. सम्भाव्य भविष्यत्
 - ✗ 3. हेतुहेतुमद भविष्यत्
 - ✗ 4. सामान्य भविष्यत्

Question ID : 5459276039

Q.6 निम्नलिखित में से कौन सा करण कारक का विभक्तिबोधक चिह्न है?

- Ans
- ✗ 1. के वास्ते
 - ✗ 2. के लिए
 - ✓ 3. से, के द्वारा
 - ✗ 4. का, की, के

Question ID : 5459276037

Q.7 निम्नलिखित में से शुद्ध वर्तनी का चयन कीजिए।

- Ans
- ✗ 1. अधिःपतन
 - ✗ 2. आधोपतन
 - ✗ 3. आधः पतन
 - ✓ 4. अधःपतन

Question ID : 5459276031

Q.8 दिए गए वाक्य में रिक्त स्थान की पूर्ति कीजिए।

_____ मत जाओ

- Ans
- ✗ 1. जितना
 - ✗ 2. तेज
 - ✗ 3. उतना
 - ✓ 4. बाहर

Q.9 निम्नलिखित में से कौन सा शब्द विदेशी शब्द का उदाहरण है?

- Ans
- 1. खाट
 - 2. झंझट
 - 3. बस
 - 4. खिड़की

Q.10 दिए गए वाक्यांश के लिए उचित शब्द का चयन कीजिए।

जो दूर की बात सोचता हो।

- Ans
- 1. दूरबीन
 - 2. दूरदर्शन
 - 3. दूरगामी
 - 4. दूरदर्शी

Q.11 दिए गए शब्द में प्रत्यय ज्ञात कीजिए।

कटेया

- Ans
- 1. क
 - 2. ऐय
 - 3. या
 - 4. कट

exampundit
Your Success Partner
www.exampundit.in pdf.exampundit.in

Q.12 दिए गए वाक्य में रेखांकित भाग में किस प्रकार की संज्ञा है ज्ञात कीजिए।

माँ ने सारा खाना घी में बनाया है

- Ans
- 1. द्रव्यवाचक
 - 2. भाववाचक
 - 3. जातिवाचक
 - 4. व्यक्तिवाचक

Q.13 निम्नलिखित में से कौन सा शब्द हमेशा बहुवचन में प्रयुक्त होता है?

- Ans
- 1. भक्ति
 - 2. शिशु
 - 3. प्राण
 - 4. पुस्तक

दिए गए शब्द का विलोम शब्द ज्ञात कीजिए।

प्रवेश

- Ans 1. निकास
 2. बाहरी
 3. अंदर
 4. निषेध

Question ID : 5459276034

Q.15 दिए गए शब्द युग्म का अर्थ ज्ञात कीजिए।

अनु - अणु

- Ans 1. अन्न - अनार
 2. कल - अन्न
 3. बाद में - कण
 4. अम - अन्न

Question ID : 5459276026

Q.16 दिए गए शब्द का स्त्रीलिंग ज्ञात कीजिए।

गीदड़

- Ans 1. गिदिड़्या
 2. गीदड़ी
 3. गीदड़िनी
 4. गीदड़िन

exampundit
Your Success Partner
www.exampundit.in pdf.exampundit.in

Question ID : 5459276035

Q.17 दिए गए शब्दों के लिए उचित शब्द का चयन कीजिए।

समान जाति वाला

- Ans 1. जातिवाद
 2. एकजात
 3. सजातीय
 4. जातिवाला

Question ID : 5459276033

Q.18 निम्नलिखित शब्द युग्मों में से कौन सा एकजातीय युग्म है?

- Ans 1. धर्म - कर्म
 2. दौड़ - भाग
 3. आकाश - पाताल
 4. बाल - बच्चे

Question ID : 5459276025

Q.19 दिए गए वाक्यांश के लिए उचित शब्द का चयन कीजिए।

जिसके हाथ में वर्ज हो।

- Ans
- 1. वज्री
 - 2. वर्जपाणि
 - 3. हस्तवज्र
 - 4. वज्रहस्त

Question ID : 5459276027

Q.20 दिए गए शब्दों के समूह में विशेष्य ज्ञात कीजिए।

- Ans
- 1. भीख
 - 2. रहा है
 - 3. माँग
 - 4. व्यक्ति

Question ID : 5459276023

Section : General Hindi2

Q.1 दिए गए वाक्यों में से शुद्ध वाक्य का चयन कीजिए।

- Ans
- 1. सीता अंधी है।
 - 2. सीता आँखों से अंधी है।
 - 3. सीता पूरी अंधी है।
 - 4. सीता आँख से अंधी है।

Question ID : 5459276042

Q.2 दिए गए शब्द किस पुरुष के उदाहरण है ज्ञात कीजिए।

वह, उसका, इन्हें

- Ans
- 1. प्रथमा
 - 2. उत्तम
 - 3. अन्य
 - 4. मध्यम

Question ID : 5459276043

Q.3 दिया गया विराम (" ") किस विराम चिह्न का चिह्न है?

- Ans
- 1. निर्देशक
 - 2. लाघव
 - 3. संयोजक
 - 4. उद्धारण

Question ID : 5459276051

Q.4 दिए गए वाक्य में पक्ष के रूप का चयन कीजिए।

पिता जी रोज टहलने जाते है।

- Ans
- 1. सातत्य बोधक पक्ष
 - 2. स्थित्यामक पक्ष
 - 3. आवृत्ति मूलक पक्ष
 - 4. पूर्ण पक्ष

Question ID : 5459276040

Q.5 दिए गए वाक्य में वृत्ति के रूप का चयन कीजिए।

यह काम तो अब करना ही पड़ेगा।

- Ans
- 1. बाध्यता सूचक
 - 2. संभावनार्थक
 - 3. सामर्थ्यसूचक
 - 4. संदेहार्थक

Question ID : 5459276041

Q.6 दिए गए वाक्य में कौन सा विराम का उपयोग होगा ज्ञात कीजिए।

क्या तुम झूठ बोलते हो।

- Ans
- 1. ,
 - 2. ।
 - 3. ?
 - 4. !

examplepundit
Your Success Partner

www.examplepundit.in

pdf.exam

Question ID : 5459276054

Q.7 दिए गए वाक्य किस वाक्य का उदाहरण है ज्ञात कीजिए।

पिता जी के चित्र को देखकर लगता है मानो वह यहीं है।

- Ans
- 1. सरल
 - 2. मिश्र
 - 3. संयुक्त
 - 4. आज्ञार्थक

Question ID : 5459276044

Q.8 निम्नलिखित प्रश्न में, दिए गए चार विकल्पों में से, उस विकल्प का चयन करें जो दिए गए मुहावरे के अर्थ को सर्वश्रेष्ठ रूप से व्यक्त करता है।

दिल मसोस कर रह जाना।

- Ans
- 1. अपमान करना।
 - 2. जी ललचाना।
 - 3. शाबाशी देना।
 - 4. खीजकर रह जाना।

Question ID : 5459276046

Q.9 वाक्य की पूर्णता को प्रकट करने के लिए किस विराम चिह्न का प्रयोग किया जाता है?

- Ans
- 1. अल्पविराम
 - 2. अर्द्धविराम
 - 3. कोष्ठक चिह्न
 - 4. पूर्णविराम

Question ID : 5459276050

Q.10 दिए गए वाक्य के लिए सही लोकोक्ति का चयन कीजिए।

बेइमानी बार – बार नहीं चल सकती।

- Ans
- 1. आस्तीन का साँप।
 - 2. नाच न जाने आंगन टेढा।
 - 3. आसमान सिर पर उठा लेना।
 - 4. काठ की हाँड़ी बार – बार नहीं चढ़ती।

Question ID : 5459276048

Q.11 दिए गए वाक्य में कौन सा विराम का उपयोग होगा ज्ञात कीजिए।

अरे मनु ने झूठ बोला।

- Ans
- 1. !, ।
 - 2. ;, ।
 - 3. ;, ?
 - 4. ,, ।

examplepundit
Your Success Partner

www.examplepundit.in

pdf.exam

Question ID : 5459276052

Q.12 निम्नलिखित प्रश्न में, दिए गए चार विकल्पों में से, उस विकल्प का चयन करें जो दिए गए मुहावरे के अर्थ को सर्वश्रेष्ठ रूप से व्यक्त करता है।

कलेजा ठंडा होना।

- Ans
- 1. मार देना।
 - 2. सुकून मिलना।
 - 3. व्यर्थ दखल देना।
 - 4. गायब हो जाना।

Question ID : 5459276047

Q.13 निम्नलिखित प्रश्न में, दिए गए चार विकल्पों में से, उस विकल्प का चयन करें जो दिए गए मुहावरे के अर्थ को सर्वश्रेष्ठ रूप से व्यक्त करता है।

चमड़ी जाए पर दमड़ी न जाए।

- Ans
- 1. मतलब निकलना।
 - 2. अपना उल्लू सीधा करना।
 - 3. भैंस के आगे बीन बजाना।
 - 4. बहुत अधिक कंजूसी करना।

Question ID : 5459276045

Q.14 निम्नलिखित प्रश्न में, दिए गए चार विकल्पों में से, उस विकल्प का चयन करें जो दिए गए मुहावरे के अर्थ को सर्वश्रेष्ठ रूप से व्यक्त करता है।

अपना उल्लू सीधा करना।

- Ans
- 1. काम न करना।
 - 2. उल्लू से काम कराना।
 - 3. अपना काम निकलवाना।
 - 4. उल्लू को मारना।

Question ID : 5459276053

Q.15 निम्नलिखित प्रश्न में, दिए गए चार विकल्पों में से, उस विकल्प का चयन करें जो दिए गए मुहावरे के अर्थ को सर्वश्रेष्ठ रूप से व्यक्त करता है।

बोझ बन जाना।

- Ans
- 1. लाल पीला होना।
 - 2. पहाड़ बन जाना।
 - 3. वीर गति प्राप्त करना।
 - 4. लोहा लेना।

Question ID : 5459276049

Comprehension:

एक गद्यांश दिया गया है। गद्यांश के आधार पर पाँच प्रश्न दिए गए हैं। गद्यांश को ध्यानपूर्वक पढ़ें तथा प्रत्येक प्रश्न में चार विकल्पों में से सही विकल्प चुने।

महाराज भगीरथ कठोर तपस्या के बाद गंगा को स्वर्ग से पृथ्वी पर लाए इसी कारण गंगा का नाम भागीरथी पड़ा। गंगा नदी के प्रति भारतवासियों की अपार श्रद्धा है। यह उनके सुख-दुख की साथी रही है। गंगा का भारत की सांस्कृतिक, धार्मिक व सामाजिक परंपराओं तथा राजनीतिक परिवर्तनों से भी अटूट संबंध रहा है। गंगा युगों से चली आ रही भारतीय सभ्यता और संस्कृति की प्रतीक है। देश के अधिकतर पवित्र स्थान इसी के किनारे स्थित हैं – हरिद्वार, प्रयाग, काशी, ऋषिकेश आदि थे। उधर गंगा के पावन तट पर ही हैं देश के प्रसिद्ध औद्योगिक केंद्र कानपुर, कोलकाता आदि इसी के तट पर बसे हैं। गंगा ने ही उत्तर भारत के मैदानों को इतना उपजाऊ बनाया है। हिमालय से निकलकर बंगाल की खाड़ी तक की यात्रा में हजारों वर्षों से बहती हुई पवित्र गंगा भारत के करोड़ों लोगों का उपकार करने में मग्न है। गंगा के जल को हिंदू पवित्र मानते हैं। धार्मिक कार्यों में इसका उपयोग होता है। यह गंगा जल ही है जिसमें वर्षों तक रखे जाने पर भी कीटाणु पैदा नहीं होते। गंगा में स्नान करके हिंदू स्वयं को धन्य मानते हैं।

SubQuestion No : 16

Q.16 गंगा जल की क्या विशेषता है?

- Ans
- 1. घर नहीं ले जा सकते।
 - 2. बोतल में डाला जा सकता है।
 - 3. सदैव साफ होता है।
 - 4. कभी खराब नहीं होता।

Question ID : 5459276058

Comprehension:

एक गद्यांश दिया गया है। गद्यांश के आधार पर पाँच प्रश्न दिए गए हैं। गद्यांश को ध्यानपूर्वक पढ़ें तथा प्रत्येक प्रश्न में चार विकल्पों में से सही विकल्प चुने।

महाराज भगीरथ कठोर तपस्या के बाद गंगा को स्वर्ग से पृथ्वी पर लाए इसी कारण गंगा का नाम भागीरथी पड़ा। गंगा नदी के प्रति भारतवासियों की अपार श्रद्धा है। यह उनके सुख-दुख की साथी रही है। गंगा का भारत की सांस्कृतिक, धार्मिक व सामाजिक परंपराओं तथा राजनीतिक परिवर्तनों से भी अटूट संबंध रहा है। गंगा युगों से चली आ रही भारतीय सभ्यता और संस्कृति की प्रतीक है। देश के अधिकतर पवित्र स्थान इसी के किनारे स्थित हैं – हरिद्वार, प्रयाग, काशी, ऋषिकेश आदि थे। उधर गंगा के पावन तट पर ही हैं देश के प्रसिद्ध औद्योगिक केंद्र कानपुर, कोलकाता आदि इसी के तट पर बसे हैं। गंगा ने ही उत्तर भारत के मैदानों को इतना उपजाऊ बनाया है। हिमालय से निकलकर बंगाल की खाड़ी तक की यात्रा में हजारों वर्षों से बहती हुई पवित्र गंगा भारत के करोड़ों लोगों का उपकार करने में मग्न है। गंगा के जल को हिंदू पवित्र मानते हैं। धार्मिक

कार्यों में इसका उपयोग होता है। यह गंगा जल ही है जिसमें वर्षों तक रखे जाने पर भी कीटाणु पैदा नहीं होते। गंगा में स्नान करके हिंदू स्वयं को धन्य मानते हैं।

SubQuestion No : 17

Q.17 उपर्युक्त गद्यांश का शीर्षक क्या है?

- Ans
- 1. स्वर्गवासी गंगा
 - 2. गंगा की आत्मकथा
 - 3. भारतीय सभ्यता और संस्कृति
 - 4. पवित्र गंगा

Question ID : 5459276057

Comprehension:

एक गद्यांश दिया गया है। गद्यांश के आधार पर पाँच प्रश्न दिए गए हैं। गद्यांश को ध्यानपूर्वक पढ़ें तथा प्रत्येक प्रश्न में चार विकल्पों में से सही विकल्प चुनें।

महाराज भगीरथ कठोर तपस्या के बाद गंगा को स्वर्ग से पृथ्वी पर लाए इसी कारण गंगा का नाम भागीरथी पड़ा। गंगा नदी के प्रति भारतवासियों की अपार श्रद्धा है। यह उनके सुख-दुख की साथी रही है। गंगा का भारत की सांस्कृतिक, धार्मिक व सामाजिक परंपराओं तथा राजनीतिक परिवर्तनों से भी अटूट संबंध रहा है। गंगा युगों से चली आ रही भारतीय सभ्यता और संस्कृति की प्रतीक है। देश के अधिकतर पवित्र स्थान इसी के किनारे स्थित हैं – हरिद्वार, प्रयाग, काशी, ऋषिकेश आदि थे। उधर गंगा के पावन तट पर ही हैं देश के प्रसिद्ध औद्योगिक केंद्र कानपुर, कोलकाता आदि इसी के तट पर बसे हैं। गंगा ने ही उत्तर भारत के मैदानों को इतना उपजाऊ बनाया है। हिमालय से निकलकर बंगाल की खाड़ी तक की यात्रा में हजारों वर्षों से बहती हुई पवित्र गंगा भारत के करोड़ों लोगों का उपकार करने में मग्न है। गंगा के जल को हिंदू पवित्र मानते हैं। धार्मिक कार्यों में इसका उपयोग होता है। यह गंगा जल ही है जिसमें वर्षों तक रखे जाने पर भी कीटाणु पैदा नहीं होते। गंगा में स्नान करके हिंदू स्वयं को धन्य मानते हैं।

SubQuestion No : 18

Q.18 उपकार करने में मग्न का अर्थ क्या है?

- Ans
- 1. नाचना
 - 2. पाप धोना
 - 3. पुण्य धोना
 - 4. चलना

Question ID : 5459276060

Comprehension:

एक गद्यांश दिया गया है। गद्यांश के आधार पर पाँच प्रश्न दिए गए हैं। गद्यांश को ध्यानपूर्वक पढ़ें तथा प्रत्येक प्रश्न में चार विकल्पों में से सही विकल्प चुनें।

महाराज भगीरथ कठोर तपस्या के बाद गंगा को स्वर्ग से पृथ्वी पर लाए इसी कारण गंगा का नाम भागीरथी पड़ा। गंगा नदी के प्रति भारतवासियों की अपार श्रद्धा है। यह उनके सुख-दुख की साथी रही है। गंगा का भारत की सांस्कृतिक, धार्मिक व सामाजिक परंपराओं तथा राजनीतिक परिवर्तनों से भी अटूट संबंध रहा है। गंगा युगों से चली आ रही भारतीय सभ्यता और संस्कृति की प्रतीक है। देश के अधिकतर पवित्र स्थान इसी के किनारे स्थित हैं – हरिद्वार, प्रयाग, काशी, ऋषिकेश आदि थे। उधर गंगा के पावन तट पर ही हैं देश के प्रसिद्ध औद्योगिक केंद्र कानपुर, कोलकाता आदि इसी के तट पर बसे हैं। गंगा ने ही उत्तर भारत के मैदानों को इतना उपजाऊ बनाया है। हिमालय से निकलकर बंगाल की खाड़ी तक की यात्रा में हजारों वर्षों से बहती हुई पवित्र गंगा भारत के करोड़ों लोगों का उपकार करने में मग्न है। गंगा के जल को हिंदू पवित्र मानते हैं। धार्मिक कार्यों में इसका उपयोग होता है। यह गंगा जल ही है जिसमें वर्षों तक रखे जाने पर भी कीटाणु पैदा नहीं होते। गंगा में स्नान करके हिंदू स्वयं को धन्य मानते हैं।

SubQuestion No : 19

Q.19 गंगा को स्वर्ग से पृथ्वी पर कौन लाया?

- Ans
- 1. विष्णु
 - 2. महाराज भगीरथ
 - 3. भगवान शिव
 - 4. महर्षि

Comprehension:

एक गद्यांश दिया गया है। गद्यांश के आधार पर पाँच प्रश्न दिए गए हैं। गद्यांश को ध्यानपूर्वक पढ़ें तथा प्रत्येक प्रश्न में चार विकल्पों में से सही विकल्प चुने।

महाराज भगीरथ कठोर तपस्या के बाद गंगा को स्वर्ग से पृथ्वी पर लाए इसी कारण गंगा का नाम भागीरथी पड़ा। गंगा नदी के प्रति भारतवासियों की अपार श्रद्धा है। यह उनके सुख-दुख की साथी रही है। गंगा का भारत की सांस्कृतिक, धार्मिक व सामाजिक परंपराओं तथा राजनीतिक परिवर्तनों से भी अटूट संबंध रहा है। गंगा युगों से चली आ रही भारतीय सभ्यता और संस्कृति की प्रतीक है। देश के अधिकतर पवित्र स्थान इसी के किनारे स्थित हैं – हरिद्वार, प्रयाग, काशी, ऋषिकेश आदि थे। उधर गंगा के पावन तट पर ही हैं देश के प्रसिद्ध औद्योगिक केंद्र कानपुर, कोलकाता आदि इसी के तट पर बसे हैं। गंगा ने ही उत्तर भारत के मैदानों को इतना उपजाऊ बनाया है। हिमालय से निकलकर बंगाल की खाड़ी तक की यात्रा में हजारों वर्षों से बहती हुई पवित्र गंगा भारत के करोड़ों लोगों का उपकार करने में मग्न है। गंगा के जल को हिंदू पवित्र मानते हैं। धार्मिक कार्यों में इसका उपयोग होता है। यह गंगा जल ही है जिसमें वर्षों तक रखे जाने पर भी कीटाणु पैदा नहीं होते। गंगा में स्नान करके हिंदू स्वयं को धन्य मानते हैं।

SubQuestion No : 20

Q.20 गंगा के जल को कौन पवित्र मानते हैं?

- Ans**
- 1. मुसलमान
 - 2. सिख
 - 3. ईसाई
 - 4. हिंदू